

الامتحان الوطني الموحد للبكالوريا

الدورة الاستدراحية 2025

المواضيع المكيفة الخاصة بالمترشحين في وضعية إعاقة
 ذهنية وحالات التوحد والصم

خاتم مركز إجراء الامتحان
 Y***

04h مدة الإجازة الموضوع SH - RS - 52

6

المعامل

رقم الامتحان

الإسم الشخصي والعائلي:

تاريخ ومكان الازدياد:

اسم وتوقيع المكلف (ة) بالحراسة:

اسم وتوقيع المكلف (ة) بالحراسة:

الاقتصاد العام والإحصاء
 شعبة علوم الاقتصاد والتدبير
 مسلك العلوم الاقتصادية

المادة
 الشعبة والمسلك

يرجى وضع ملصق
 الرمز السري هنا



النقطة النهائية

المادة: الاقتصاد العام والإحصاء

..... / 20

بالأرقام

الشعبة أو المسلك: شعبة علوم الاقتصاد والتدبير
 مسلك العلوم الاقتصادية

.....

بالحروف

اسم المصحح (ة):

SH - RS - 52

Ω

رقم الأرشفة

توقيع المصحح (ة):

ورقة الإجابة

الصفحة 1 على 22

على المصحح (ة) التأكد من أن النقطة النهائية على 20

- Cochez la réponse juste en mettant une croix (x) et complétez les autres éléments manquants avec ce qui convient.
- Évitez les ratures et les surcharges.
- L'utilisation de la machine à calculer non programmable est autorisée.
- Pour les résultats des calculs, retenez uniquement les deux premiers chiffres après la virgule.
- Pour la synthèse argumentée, évitez l'utilisation des tirets et rédigez votre réponse sous forme de paragraphes structurés (utilisez les connecteurs logiques avec des transitions).
- 0,5 point de la note finale sur 20 est réservé à la présentation soignée de la copie.

DOSSIER 1 : DYSFONCTIONNEMENTS DES MARCHES, CIRCUIT ECONOMIQUE ET AGREGATS DE LA COMPTABILITE NATIONALE

DOCUMENT 1 : Test de connaissances

N°	Proposition	Vrai	Faux	Justification
1	Le produit intérieur brut est la valeur ajoutée totale aux prix de base diminuée des impôts sur les produits nets des subventions.			Produit intérieur brut = Valeur ajoutée totale aux prix de base + Impôts sur les produits nets des subventions.
				Produit intérieur brut = Valeur ajoutée totale aux prix de base - Impôts sur les produits nets des subventions.
				Produit intérieur brut = Valeur ajoutée totale aux prix de base + Impôts sur les produits nets des subventions + TVA.
2	Le flux réel est un mouvement de biens et services entre les agents économiques.			Le flux réel est un mouvement d'une quantité des biens et services faisant l'objet d'une opération financière.
				Le flux réel est un mouvement d'actifs financiers ou monétaires faisant l'objet d'une opération économique.
				Le flux réel est un mouvement d'une quantité des biens et services faisant l'objet d'une opération économique.

Partie réservée au correcteur

Note totale par page :

لا يكتب أي شيء في هذا الإطار

الصفحة 2 على 22

SH - RS - 52

الامتحان الوطني الموحد للبكالوريا - الدورة الاستدراكية 2025 - الموضوع
مادة: الاقتصاد العام والإحصاء - شعبة علوم الاقتصاد والتدبير مسلك العلوم الاقتصادية



3	Selon le HCP, le PIB aux prix constants est exprimé aux prix de l'année en cours.			Selon le HCP, le PIB aux prix constants est exprimé aux prix de l'année de base 2017.	
				Selon le HCP, le PIB aux prix constants est exprimé aux prix de l'année précédente.	
				Selon le HCP, le PIB aux prix constants est exprimé aux prix de l'année en cours.	
4	La transparence du marché signifie l'accès à l'information sans coût pour tous les intervenants.			La transparence du marché signifie que l'information sur les composantes du marché est disponible, totale et complète.	
				La transparence du marché signifie que les offreurs et les demandeurs connaissent bien l'emplacement géographique du marché.	
				La transparence du marché signifie la libre entrée et sortie du marché.	
5	La déflation correspond à une situation où le taux d'inflation est négatif.			La déflation signifie la hausse continue du niveau général des prix à la consommation. Par conséquent, le taux d'inflation devient négatif.	
				La déflation signifie la baisse continue du niveau général des prix à la consommation. Par conséquent, le taux d'inflation devient positif.	
				La déflation signifie la baisse durable du niveau général des prix à la consommation. Par conséquent, le taux d'inflation devient négatif.	
6	Le chômage est une situation d'excès de la demande du travail par rapport à l'offre du travail.			Le chômage est une situation d'excès de l'offre du travail par rapport à la demande du travail.	
				Le chômage est une situation d'équilibre entre l'offre et la demande du travail.	
				Le chômage est une situation de déséquilibre résultant de l'excès de la demande du travail par rapport à l'offre du travail.	

TRAVAIL A FAIRE :

(1,00 pt)

Mettez une croix (x) dans la case appropriée (Vrai ou Faux) en **justifiant** votre réponse.

Partie réservée au correcteur

Note totale par page :

لا يكتب أي شيء في هذا الإطار

الصفحة 3 على 22

SH - RS - 52

الامتحان الوطني الموحد للبكالوريا - الدورة الاستدراكية 2025 - الموضوع
مادة: الاقتصاد العام والإحصاء - شعبة علوم الاقتصاد والتدبير مسلك العلوم الاقتصادية

Ω

DOCUMENT 2 : Marché mondial du cacao, les cours en baisse

Le monde du cacao offre une richesse de saveurs et de nuances uniques, façonnées par trois types de cacao distincts : le criollo, le forastero et le trinitario. La Côte d'Ivoire et le Ghana sont les deux plus grands pays producteurs du cacao au monde, représentant ensemble plus de 60% de la production mondiale.

Pour la campagne 2023-2024, la production mondiale s'est élevée à 4,45 millions de tonnes, contre 4,99 millions de tonnes lors de la campagne 2022-2023. Cette baisse s'attribue aux effets du phénomène climatique "El Niño" qui se traduit par une hausse de la température à la surface de l'eau, provoquant des épisodes de chaleur et de sécheresse dans la région d'Afrique de l'Ouest.

Par conséquent, le déficit de production a atteint environ 350 000 tonnes en 2023-2024, contre 74 000 tonnes au titre de la campagne précédente. Ce déficit accentue **le déséquilibre entre l'offre et la demande du cacao**. Alors que l'offre baisse de 11%, la demande mondiale n'a reculé que de près de 5% pour s'établir à 4,80 millions de tonnes en 2023-2024. Dans ce contexte, les cours mondiaux du cacao ont connu une baisse.

Source : www.le360.ma au 16/03/2024 (Texte adapté)

TRAVAIL A FAIRE :

(1,50 pt)

1. Identifiez, en justifiant, le régime du marché mondial du cacao :

(0,25 pt)

Régime	Justification
Monopole	La Côte d'Ivoire et le Ghana sont les deux plus grands pays producteurs du cacao au monde, ils accaparent 60% de la production mondiale.
Concurrence monopolistique	La Côte d'Ivoire et le Ghana monopolisent le marché mondial du cacao.
Oligopole	La production du cacao est en baisse à cause des effets du phénomène climatique "El Niño".

2. Caractérissez le marché mondial du cacao selon ses composantes (une caractéristique par composante) ;

(0,25 pt)

Offre	Demande	Prix
La production mondiale ne devait reculer que de près de 5%.	La demande du cacao est en hausse.	Les cours mondiaux en baisse.
Une part de 60% de la production mondiale est assurée par deux pays.	La production mondiale a atteint 4,45 millions de tonnes pour la campagne 2023-2024.	Les cours mondiaux en hausse.
La production mondiale s'est établie à 4,80 millions de tonnes en 2023-2024.	La demande mondiale n'a reculé que de près de 5%.	Flambée des cours mondiaux.

3. Illustrez le passage en gras souligné pour la campagne 2023-2024 ;

(0,25 pt)

Pour la campagne 2023-2024, la demande mondiale est de 4,45 millions de tonnes du cacao, alors que la production mondiale est de 4,80 millions de tonnes. Il y a donc un déséquilibre entre l'offre et la demande sur le marché mondial du cacao de 350 000 tonnes.

Pour la campagne 2023-2024, la production mondiale est de 4,54 millions de tonnes du cacao, alors que la demande mondiale est de 4,08 millions de tonnes. Il y a donc un déséquilibre entre l'offre et la demande sur le marché mondial du cacao de 460 000 tonnes.

Pour la campagne 2023-2024, la production mondiale est de 4,45 millions de tonnes du cacao, alors que la demande mondiale est de 4,80 millions de tonnes. Il y a donc un déséquilibre entre l'offre et la demande sur le marché mondial du cacao de 350 000 tonnes.

Partie réservée au correcteur

Note totale par page :

لا يكتب أي شيء في هذا الإطار

الصفحة 4 على 22

SH - RS - 52

الامتحان الوطني الموحد للبكالوريا - الدورة الاستدراكية 2025 - الموضوع
مادة: الاقتصاد العام والإحصاء - شعبة علوم الاقتصاد والتدبير مسلك العلوم الاقتصادية



4. Calculez la demande mondiale du cacao pour la campagne 2022/2023 ;

(0,50 pt)

Formule	Application numérique	Résultat
$\frac{\text{Demande (2023/2024)}}{1 - \text{Taux de variation}}$	$\frac{4,8}{1 + (-5\%)}$	1,71 million de tonnes.
$\frac{\text{Demande (2023/2024)}}{1 / \text{Taux de variation}}$	$\frac{4,8}{1 - (-5\%)}$	5,05 millions de tonnes.
$\frac{\text{Demande (2023/2024)}}{1 + \text{Taux de variation}}$	$\frac{4,8}{1 / 5\%}$	0,22 million de tonnes.

5. Vérifiez, en justifiant, si la loi de la demande est respectée sur le marché mondial du cacao.

(0,25 pt)

La loi de la demande est vérifiée, car malgré la baisse des cours du cacao, la demande a reculé de 5%.

La loi de la demande n'est pas vérifiée, car malgré la baisse des cours du cacao, la demande a reculé de 5%.

La loi de la demande n'est pas vérifiée, car bien que la production mondiale s'est élevée à 4,45 millions de tonnes, la demande mondiale n'a reculé que de près de 5%.

Partie réservée au correcteur

Note totale par page :

لا يكتب أي شيء في هذا الإطار

الصفحة 5 على 22

SH - RS - 52

الامتحان الوطني الموحد للبكالوريا - الدورة الاستدراكية 2025 - الموضوع
مادة: الاقتصاد العام والإحصاء - شعبة علوم الاقتصاد والتدبير مسلك العلوم الاقتصادية



DOCUMENT 3 : Extrait des données de la comptabilité nationale d'une économie fictive (en millions d'unités monétaires : MUM)

Les agents économiques d'une économie fictive ont effectué un certain nombre d'opérations économiques au cours d'une année civile. Parmi ces opérations, on peut citer :

* Vente des biens et services par les sociétés non financières (SNF) :

- aux ménages (M) : 4 500 MUM ;
- aux administrations publiques (APU) : 3 300 MUM ;
- aux sociétés financières (SF) : 2 400 MUM ;
- au reste du monde (RDM) : 800 MUM.

* Les ménages ont reçu :

- 2 900 MUM des SNF sous forme de salaires ;
- 13 000 MUM des APU sous forme de traitements et de prestations sociales.

* Les APU ont reçu 8 600 MUM d'impôts et de cotisations sociales dont 1 200 MUM versés par les SNF.

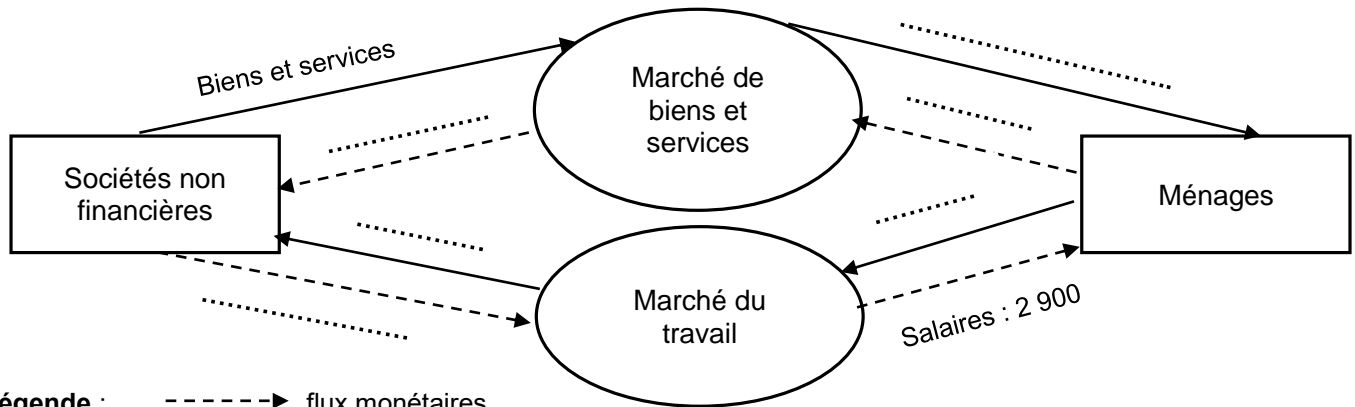
Source : Document élaboré par les concepteurs du sujet

TRAVAIL A FAIRE :

(0,75 pt)

1. Complétez l'extrait du circuit économique ci-dessous :

(0,25 pt)



2. Vérifiez l'équilibre ressources-emplois pour les SNF.

(0,50 pt)

Sociétés non financières			
Emplois		Ressources	
Élément	Montant	Élément	Montant
Investissement	6 100		
Importations	800		
Total		Total	

Partie réservée au correcteur

Note totale par page :

لا يكتب أي شيء في هذا الإطار

الصفحة 6 على 22

SH - RS - 52

الامتحان الوطني الموحد للبكالوريا - الدورة الاستدراكية 2025 - الموضوع
مادة: الاقتصاد العام والإحصاء - شعبة علوم الاقتصاد والتدبير مسلك العلوم الاقتصادية



DOCUMENT 4 : Maroc, redressement de la croissance économique

Dans un contexte caractérisé par la continuité de chocs économiques et géopolitiques, l'économie mondiale devrait poursuivre son ralentissement en 2024, enregistrant une croissance limitée à **2,7%** au lieu de 2,9% en 2023.

Au Maroc, l'économie aurait connu un redressement en 2023 après sa décélération enregistrée en 2022. Ce redressement est attribuable à une amélioration relative de la production agricole et à la consolidation de l'activité tertiaire, en dépit de la persistance de la sécheresse, du ralentissement de la demande extérieure et de la poursuite des tensions inflationnistes.

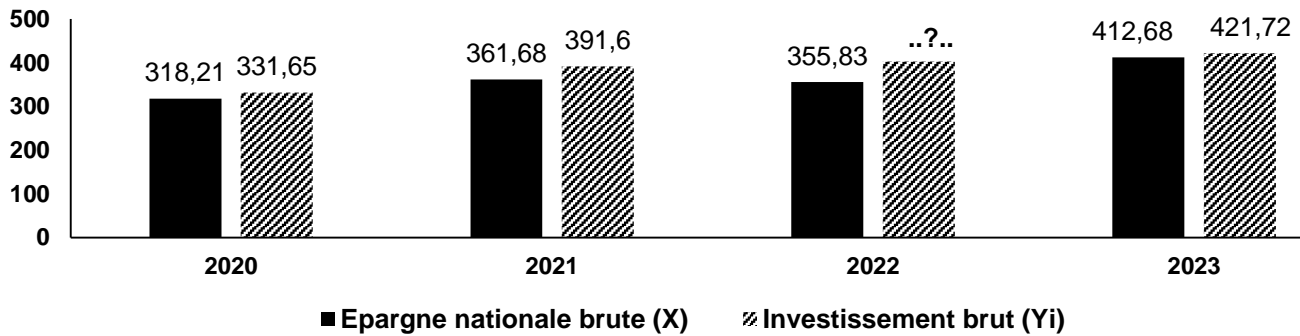
L'épargne nationale a atteint 28,2% du produit intérieur brut (PIB) en 2023, contre **26,75%** un an auparavant.

Quant au taux d'investissement, il a atteint 28,8% en 2023, au lieu de **30,3%** une année auparavant. Dans ce contexte, le besoin de financement de l'économie nationale s'est allégé passant de 3,6% du PIB en 2022 à 0,6% en 2023.

Maroc, quelques agrégats de la comptabilité nationale

Année	Croissance du PIB en volume (en %)	PIB aux prix courants (en millions de DH)	Epargne nationale brute (en millions de DH)
2021	8,0	1 274 727	361 680
2022	1,3	1 330 158	355 830
2023	2,9	1 463 358	412 680

Maroc, évolution de l'épargne nationale brute et de l'investissement brut (en milliards de dirhams MMDH)



Source : www.hcp.ma (Texte adapté)

Partie réservée au correcteur

Note totale par page :

لا يكتب أي شيء في هذا الإطار

الصفحة 7 على 22

SH - RS - 52

الامتحان الوطني الموحد للبكالوريا - الدورة الاستدراكية 2025 - الموضوع
مادة: الاقتصاد العام والإحصاء - شعبة علوم الاقتصاد والتدبير مسلك العلوم الاقتصادية



TRAVAIL A FAIRE : (2,75 pts)

1. Lisez les données en gras encadrées ; (0,50 pt)

2,7%	En 2024, au Maroc, le PIB augmenterait de 2,7% par rapport à l'année 2023.	
	En 2024, le PIB mondial augmenterait de 2,7% par rapport à l'année 2023.	
	En 2024, le PIB mondial baisserait de 2,7% par rapport à l'année 2023.	
30,3%	Au Maroc, en 2022, les dépenses en biens de production représentent 30,3% de la richesse créée par les agents économiques résidents.	
	Au Maroc, en 2022, les dépenses en biens de consommation représentent 30,3% de la richesse créée par les agents économiques résidents.	
	Au Maroc, en 2022, les dépenses en biens de production et de consommation finale représentent 30,3% de la richesse créée par les agents économiques résidents.	

2. Retrouvez la donnée en gras soulignée ; (0,50 pt)

Formule	Application numérique	Résultat
$\frac{ENB\ 2023 - ENB\ 2022}{ENB\ 2022} \times 100$	$\frac{355\ 830}{1\ 330\ 158} \times 100$	31,02%
$\frac{ENB\ 2023}{PIB\ 2022} \times 100$	$\frac{412\ 680}{1\ 330\ 158} \times 100$	26,75%
$\frac{ENB\ 2022}{PIB\ 2022} \times 100$	$\frac{412\ 680 - 355\ 830}{355\ 830} \times 100$	15,97%

3. Calculez et lisez la FBC en 2022. (0,50 pt)

Formule	Application numérique et résultat	Lecture
$\frac{PIB \times (\text{Taux d'investissement} - 1)}{100}$	$\frac{1\ 330\ 158 \times 30,3}{100}$ = 403 037,87 millions de DH	Au Maroc, en 2022, les dépenses des agents économiques en biens de consommation durables s'élèvent à 389 736,29 millions de DH.
$\frac{PIB \times (\text{Taux d'investissement} + 1)}{100}$	$\frac{1\ 330\ 158 \times (30,3 - 1)}{100}$ = 389 736,29 millions de DH	Au Maroc, en 2022, les dépenses des agents économiques en biens de production s'élèvent à 403 037,87 millions de DH.
$\frac{PIB \times \text{Taux d'investissement}}{100}$	$\frac{1\ 330\ 158 \times (30,3 + 1)}{100}$ = 416 339,45 millions de DH	Au Maroc, en 2022, les dépenses des agents économiques en biens de production importés s'élèvent à 416 339,45 millions de DH.

Partie réservée au correcteur

Note totale par page :

لا يكتب أي شيء في هذا الإطار

الصفحة 8 على 22

SH - RS - 52

الامتحان الوطني الموحد للبكالوريا - الدورة الاستدراكية 2025 - الموضوع
مادة: الاقتصاد العام والإحصاء - شعبة علوم الاقتصاد والتدبير مسلك العلوم الاقتصادية



4. Déterminez l'équation de la droite d'ajustement linéaire selon la méthode des moindres carrés (méthode développée) sachant que : (1,00 pt)

x : Epargne nationale brute ; y : Investissement brut ;
 $\bar{x} = 362,1$ $\bar{y} = 387$ $\sum x_i y_i = 564\,617,37$ $\sum x_i^2 = 528\,989,80$

	Formule	Application numérique	Résultat
a	$a = \frac{\sum x_i y_i - n \bar{x} \bar{y}}{\sum x_i^2 - n \bar{x}^2}$	$a = \frac{564\,617,37 + 4 \times 362,1 \times 387}{528\,989,80 + 4 \times 362,1^2}$	248,69
	$a = \frac{\sum x_i y_i + n \bar{x} \bar{y}}{\sum x_i^2 - n \bar{x}^2}$	$a = \frac{564\,617,37 + 4 \times 362,1 \times 387}{528\,989,80 - 4 \times 362,1^2}$	0,9
	$a = \frac{\sum x_i y_i - n \bar{x} \bar{y}}{\sum x_i^2 + n \bar{x}^2}$	$a = \frac{564\,617,37 - 4 \times 362,1 \times 387}{528\,989,80 - 4 \times 362,1^2}$	1,06
b	$\bar{y} + a \bar{x}$	$b = 1,06 \times 362,1 - 387$	61,11
	$a \bar{x} - \bar{y}$	$b = 387 - 0,9 \times 362,1$	- 3,17
	$\bar{y} - a \bar{x}$	$b = 387 + 248,69 \times 362,1$	712,89
Equation de la droite d'ajustement linéaire		$y = 1,06 x + 712,89$	
		$y = 0,9 x + 61,11$	
		$y = 248,69 x - 3,17$	

5. Déterminez le montant prévisionnel de l'investissement brut en 2025 si la valeur de l'épargne nationale brute atteindrait 420 MMDH. (0,25 pt)

$$Y = 248,69 \times 420 - 3,17 = 104\,446,63 \text{ MMDH}$$

$$Y = 1,06 \times 420 + 712,89 = 1\,158,09 \text{ MMDH}$$

$$Y = 0,9 \times 420 + 61,11 = 439,11 \text{ MMDH}$$

DOCUMENT 5 : Maroc, la hausse des prix dure

Lorsque le taux d'inflation s'affaiblit, cela signifie simplement que l'inflation ralentit. Mais cela ne signifie pas une diminution des prix. Dans ce cadre, le rôle de la banque centrale s'avère déterminant. En effet, si la politique monétaire est inefficace, les hausses des prix persistent, l'économie stagne et le chômage augmente.

La persistance de l'inflation est partiellement relative et dépend des méthodologies de mesure. Dans ce sens, les pondérations de l'indice des prix à la consommation (IPC), qui jouent un rôle décisif dans la détermination du taux d'inflation, sont obsolètes au Maroc, car fondées sur le recensement général de la population et de l'habitat de 2014.

La composante alimentaire, souvent disproportionnée dans le panier de l'IPC, joue un rôle déterminant dans la hausse du taux d'inflation. Ainsi, **même si l'inflation ralentit, les précédentes hausses des prix persistent et les citoyens en ressentent toujours les effets.** Quant à la composante sous-jacente, elle a suivi une trajectoire similaire, passant de 6,6% en 2022 à 5,6% en 2023, et devrait osciller autour de 2,3% en 2024 et en 2025.

Indice des prix à la consommation (base 100 en 2017)

Division de produits	2022	2023	Variation en %	Coefficient de pondération (CP)
Produits alimentaires (PA)	114,4	128,7	12,5	38,788
Produits non alimentaires (PNA)	108,5	110,3	1,7	61,212

Sources : www.hcp.ma et www.medias24.com au 14/07/2024 (Texte adapté)

Partie réservée au correcteur

Note totale par page :

لا يكتب أي شيء في هذا الإطار

الصفحة 9 على 22

SH - RS - 52

الامتحان الوطني الموحد للبكالوريا - الدورة الاستدراكية 2025 - الموضوع
مادة: الاقتصاد العام والإحصاء - شعبة علوم الاقتصاد والتدبير مسلك العلوم الاقتصادية



TRAVAIL A FAIRE : (2,00 pts)

1. Lisez les données en gras soulignées ; (0,50 pt)

128,7	Au Maroc, les prix à la consommation des produits alimentaires ont augmenté en moyenne de 128,7% en 2023 par rapport à l'année de base 2017.
	Au Maroc, les prix à la consommation des produits alimentaires ont augmenté en moyenne de 28,7% en 2023 par rapport à l'année de base 2017.
	Au Maroc, les prix à la consommation des produits alimentaires ont augmenté en moyenne de 28,7% en 2023 par rapport à l'année de base 2014.
61,212 %	Au Maroc, la part des dépenses en produits non alimentaires dans le budget de consommation des ménages s'élève à 61,212%.
	Au Maroc, la part des dépenses en produits alimentaires dans le budget de consommation des ménages s'élève à 61,212%.
	Au Maroc, la part des dépenses en produits alimentaires et non alimentaires dans le budget de consommation des ménages s'élève à 61,212%.

2. Relevez un passage faisant allusion à chacune des situations suivantes : (0,50 pt)

Déflation	Diminution des prix	
	L'inflation ralentit	
	Les hausses des prix persistent, l'économie stagne et le chômage augmente.	
Stagflation	Le taux d'inflation s'affaiblit	
	Diminution des prix	
	Les hausses des prix persistent, l'économie stagne et le chômage augmente.	
Désinflation	Les hausses des prix persistent, l'économie stagne et le chômage augmente.	
	Le taux d'inflation s'affaiblit	
	Diminution des prix	

3. Calculez l'IPC en 2023 : (0,50 pt)

Formule	Application numérique	Résultat
$[IPC(PA)] + [IPC(PNA)]$	$128,7 + 110,3$	239
$\frac{[IPC(PA) \times CP(PA)] + [IPC(PNA) \times CP(PNA)]}{100}$	$\frac{128,7 + 110,3}{2}$	117,43
$\frac{[IPC(PA)] + [IPC(PNA)]}{2}$	$\frac{(128,7 \times 38,788) + (110,3 \times 61,212)}{100}$	119,5

4. Expliquez le passage en gras souligné. (0,50 pt)

Le ralentissement de l'inflation ne signifie pas que les prix baissent, il y a toujours une augmentation des prix mais pas avec le même rythme. Les fortes augmentations des prix enregistrées précédemment sont toujours présentes dans la structure des prix, avec de nouvelles hausses plus modérées. C'est la raison pour laquelle, le pouvoir d'achat des ménages se dégrade.

Le ralentissement de l'inflation signifie que les prix baissent, il y a toujours une augmentation des prix mais pas avec le même rythme. Les fortes augmentations des prix enregistrées précédemment sont toujours présentes dans la structure des prix, avec de nouvelles hausses plus modérées. C'est la raison pour laquelle, le pouvoir d'achat des ménages se dégrade.

Le ralentissement de l'inflation ne signifie pas que les prix baissent, il y a toujours une stabilité des prix. Les fortes augmentations des prix enregistrées précédemment sont toujours présentes dans la structure des prix, avec de nouvelles hausses plus modérées. C'est la raison pour laquelle, le pouvoir d'achat des ménages se dégrade.

Partie réservée au correcteur

Note totale par page :

لا يكتب أي شيء في هذا الإطار

الصفحة 10 على 22

SH - RS - 52

الامتحان الوطني الموحد للبكالوريا - الدورة الاستدراكية 2025 - الموضوع
مادة: الاقتصاد العام والإحصاء - شعبة علوم الاقتصاد والتدبير مسلك العلوم الاقتصادية

Ω

DOCUMENT 6 : Maroc, hausse du taux de chômage

C'est une aggravation spectaculaire que vient de connaître le taux de chômage dans notre pays entre 2022 et 2023. Par genre, le taux de chômage est passé de 10,3% à 11,5% chez les hommes et de **17,2%** à 18,3% chez les femmes. Le chômage a été marqué par la hausse de la proportion des personnes récemment en chômage. Ainsi, la part des personnes en situation de chômage depuis moins d'un an s'est élevée de 31,3% à 33,3% entre 2022 et 2023. Par ailleurs, l'augmentation du chômage ralentit la croissance économique, et par conséquent entraîne la dégradation du pouvoir d'achat et du lien social, d'où la hausse de la délinquance et de la criminalité.

Quelques indicateurs annuels d'activité (en milliers de personnes)

	2022			2023		
	Urbain	Rural	Ensemble	Urbain	Rural	Ensemble
Population active (PA)	7 591	4 599	12 190	7 731	4 441	12 172
Population active occupée (PAO)	6 390	4 359	10 749	6 431	4 160	10 591

Sources : www.hcp.ma et www.maroc-hebdo.press.ma au 23/02/2024 (Texte adapté)

TRAVAIL A FAIRE :

(1,50 pt)

1. Relevez deux conséquences du chômage ;

(0,25 pt)

Dégradation du pouvoir d'achat.

Hausse de la proportion des personnes récemment en chômage.

Aggravation spectaculaire que vient de connaître le taux de chômage dans notre pays.

Dégradation du lien social.

Accroissement de 99 000 chômeurs en milieu urbain et de 41 000 en milieu rural.

2. Lisez la donnée en gras soulignée ;

(0,25 pt)

17,2%

Au Maroc, en 2022, 17,2% de la population active féminine est en chômage.

Au Maroc, en 2022, 17,2% de la population active est en chômage.

Au Maroc, en 2022, 17,2% de la population féminine en âge d'activité est en chômage.

3. Calculez :

(0,75 pt)

Elément	Formule	Application numérique	Résultat
Nombre de chômeurs en 2022	$\frac{\text{Population active} + \text{Population active occupée}}{2}$	12 190 + 10 749	1 441 milliers de personnes
	$\text{Population active} + \text{Population active occupée}$	12 190 – 10 749	22 939 milliers de personnes
	$\frac{\text{Population active} - \text{Population active occupée}}{2}$	$\frac{12 190 + 10 749}{2}$	11 469,5 milliers de personnes
Taux de chômage au milieu rural en 2023	$\frac{\text{Population en chômage en milieu rural}}{\text{Population active en milieu rural}} \times 100$	$\frac{4 441 - 4 160}{12 190 - 10 749}$	19,50%
	$\frac{\text{Population active en milieu rural}}{\text{Population active}} \times 100$	$\frac{4 441}{12 172} \times 100$	6,32%
	$\frac{\text{Population en chômage en milieu rural}}{\text{Population active en chômage}} \times 100$	$\frac{4 441 - 4 160}{4 441} \times 100$	36,48%

Partie réservée au correcteur

Note totale par page :

لا يكتب أي شيء في هذا الإطار

الصفحة 11 على 22

SH - RS - 52

الامتحان الوطني الموحد للبكالوريا - الدورة الاستدراكية 2025 - الموضوع
مادة: الاقتصاد العام والإحصاء - شعبة علوم الاقتصاد والتدبير مسلك العلوم الاقتصادية



4. Caractérissez en illustrant le chômage au Maroc en 2023 selon le sexe. (0,25 pt)

Caractéristique	Illustration
Le chômage touche les femmes plus que les hommes.	99 000 chômeurs en milieu urbain et de 41 000 en milieu rural.
Le chômage touche les femmes moins que les hommes.	En 2023, le taux de chômage est de 11,5% chez les femmes, contre 18,3% chez les hommes.
Le chômage augmente plus vite en milieu urbain qu'en milieu rural.	En 2023, le taux de chômage est de 18,3% chez les femmes, contre 11,5% chez les hommes.

DOSSIER 2 : POLITIQUES ECONOMIQUES CONJONCTURELLES ET DEVELOPPEMENT

DOCUMENT 7 : Test de connaissances

- 1- Les swaps de change sont des :
- contrats d'échange de devises.
 - dépôts placés auprès de la banque centrale.
 - contrats de vente temporaire de titres.
 - opérations d'achat et de vente des bons de Trésor par la banque centrale.
- 2- Le MASI est un indice qui mesure la performance :
- des valeurs les plus actives de la bourse des valeurs de Casablanca.
 - des 20 entreprises les plus liquides cotées à la bourse des valeurs de Casablanca.
 - des actions de toutes les entreprises cotées à la bourse des valeurs de Casablanca.
 - des cours des petites et moyennes entreprises cotées à la bourse des valeurs de Casablanca.
- 3- L'équation de la théorie quantitative de la monnaie s'écrit :
- $M + V = Q + P$
 - $M - V = Q - P$
 - $M \times V = Q - P$
 - $M \times V = Q \times P$
- Avec : **M** : Masse monétaire **V** : Vitesse de circulation de la monnaie
P : Niveau général des prix **Q** : Volume des transactions des biens et services
- 4- Les produits de monopoles, d'exploitations et de participations financières de l'Etat représentent une ressource :
- fiscale.
 - ordinaire.
 - exceptionnelle.
 - d'emprunt.
- 5- La croissance extensive est :
- une croissance qui résulte du seul accroissement quantitatif des facteurs de production.
 - une meilleure organisation des travailleurs qui permet au même nombre de travailleurs d'augmenter la production.
 - l'ensemble de transformations structurelles de la société.
 - une croissance centrée uniquement sur le facteur travail à court terme.
- 6- Samir Amin explique le sous-développement par :
- la désarticulation entre les secteurs traditionnel et moderne.
 - l'échange inégal.
 - l'exploitation des pays de la périphérie par ceux du centre.
 - les cercles vicieux de la pauvreté.

TRAVAIL A FAIRE :

(1,00 pt)

Mettez une croix (x) dans la case appropriée.

Partie réservée au correcteur

Note totale par page :

لا يكتب أي شيء في هذا الإطار

الصفحة 12 على 22

SH - RS - 52

الامتحان الوطني الموحد للبكالوريا - الدورة الاستدراكية 2025 - الموضوع
مادة: الاقتصاد العام والإحصاء - شعبة علوم الاقتصاد والتدبير مسلك العلوم الاقتصادية



DOCUMENT 8 : BAM, interventions sur le marché monétaire

Bank Al-Maghrib (BAM) a fait savoir que la masse monétaire (agrégat M3) a atteint 1 750,8 milliards de dirhams (MMDH) en 2023, en croissance de 3,9% comparativement à une année auparavant.

Selon BAM, les dépôts à vue auprès des banques ont progressé de 6,8%, alors que ceux à terme ont accusé une baisse de 10,9%. De même, la circulation fiduciaire a poursuivi sa forte progression avec une nouvelle hausse de 10,9% et les comptes d'épargne auprès des banques se sont accrus de 1,8%.

En juin 2024, la banque centrale a augmenté son intervention via la pension livrée de 1,9 MMDH. Cependant, elle a baissé ses injections au titre des avances à 7 jours de 8 MMDH pour atteindre 52,9 MMDH. Elle a également décidé de réduire son taux directeur à 2,5% le 17 décembre 2024 après l'avoir maintenu à 2,75% depuis juin 2024.

Par ailleurs, la régularisation volontaire de la situation fiscale des personnes physiques a permis de collecter plus de 6 MMDH d'impôts sur les 127 MMDH d'avoirs déclarés fin décembre 2024.

Sources : www.hcp.ma et www.hespress.com au 13/07/2024 (Texte adapté)

TRAVAIL A FAIRE :

(1,25 pt)

1. Complétez le schéma par les expressions suivantes :

(0,25 pt)

boursier, capacité, secondaire, des bons du Trésor, besoin, monétaire.

Marché des capitaux

Marché

- Marché interbancaire
- Marché des TCN
- Marché

Marché

- Marché primaire
- Marché

Agents économiques à de financement

Demande de titres

Offre de titres

Agents économiques à de financement

2. Relevez :

(0,50 pt)

Deux composantes de la masse monétaire	Pension livrée.	
	Circulation fiduciaire.	
	Avances à 7 jours.	
	Taux directeur.	
	Comptes d'épargne auprès des banques.	
Deux actions de la politique monétaire en 2024	Augmentation de la pension livrée de 1,9 MMDH.	
	La circulation fiduciaire a poursuivi sa forte progression.	
	Les dépôts à vue auprès des banques ont progressé de 6,8%.	
	Baisse des avances à 7 jours de 8 MMDH à 52,9 MMDH.	
	Hausse de la circulation fiduciaire de 1,9 MMDH.	

3. Précisez l'effet éventuel de la régularisation volontaire de la situation fiscale des personnes physiques sur la liquidité bancaire ;

(0,25 pt)

Baisser la liquidité bancaire.

Augmenter la liquidité bancaire.

Stabiliser le niveau de la liquidité bancaire.

Partie réservée au correcteur

Note totale par page :

لا يكتب أي شيء في هذا الإطار

الصفحة 13 على 22

SH - RS - 52

الامتحان الوطني الموحد للبكالوريا - الدورة الاستدراكية 2025 - الموضوع
مادة: الاقتصاد العام والإحصاء - شعبة علوم الاقتصاد والتدبير مسلك العلوم الاقتصادية

Ω

4. Expliquez l'effet éventuel de la baisse du taux directeur sur la croissance économique. (0,25 pt)

La baisse du taux directeur ne permet pas de favoriser la baisse des taux d'intérêt débiteurs. Cela ne va pas encourager la demande des crédits à la consommation et à l'investissement et partant la croissance économique.

La baisse du taux directeur permet de favoriser la hausse des taux d'intérêt débiteurs. Cela va encourager la demande des crédits à la consommation et à l'investissement et partant stimuler la croissance économique.

La baisse du taux directeur permet de favoriser la baisse des taux d'intérêt débiteurs. Cela va encourager la demande des crédits à la consommation et à l'investissement et partant stimuler la croissance économique.

DOCUMENT 9 : Maroc, révisions historiques apportées par la loi de finances (LF) 2025

Le gouvernement s'engage à poursuivre la réduction progressive du déficit budgétaire à 3,5% du produit intérieur brut (PIB) en 2025 et à 3% en 2026 et 2027 afin d'assurer un équilibre entre la pérennité de la mise en œuvre des réformes et le renforcement des marges budgétaires, tant au niveau des recettes que des dépenses.


Ainsi, d'une part, la LF 2025 prévoit la réforme de l'impôt sur le revenu (IR), en application des engagements du gouvernement dans le cadre du dialogue social. Pour ce faire, il est proposé le relèvement de la première tranche du barème relative au revenu annuel net exonéré de 30 000 DH à 40 000 DH, ce qui va permettre d'exonérer tous les revenus salariaux inférieurs à 6 000 DH par mois. Egalement, la LF propose, d'une part, la révision des autres tranches du barème, afin de les élargir et de réduire leur taux d'imposition, et d'autre part, la réduction du taux marginal du barème précité de 38% à 37%.

Par ailleurs, l'enveloppe budgétaire dédiée aux dépenses d'investissement du budget général marquerait une progression de 8,8% en 2025 par rapport aux 118,1 milliards de dirhams (MMDH) prévues en 2024. De même, une enveloppe de 16,53 MMDH est programmée pour la compensation des prix des produits de base au titre de la LF 2025.

Données budgétaires marocaines (en MMDH)

Élément	LF 2025
Recettes fiscales (RF)	329,72
Recettes non fiscales (RNF)	39,12
Recettes d'emprunts à moyen et long termes (RE)	125,00
Dépenses de fonctionnement (DF)	320,97
Dépenses en intérêts et commissions se rapportant à la dette publique (DIC)	45,10
Besoins résiduels de financement du budget de l'Etat (BRF)	- 63,51

Structure des dépenses du budget général en 2025



Sources : www.medias24.com au 20/10/2024 et www.leseco.ma au 21/10/2024 (Texte adapté)

Partie réservée au correcteur

Note totale par page :

لا يكتب أي شيء في هذا الإطار

الصفحة 14 على 22

SH - RS - 52

الامتحان الوطني الموحد للبكالوريا - الدورة الاستدراكية 2025 - الموضوع
مادة: الاقتصاد العام والإحصاء - شعبة علوم الاقتصاد والتدبير مسلك العلوم الاقتصادية



TRAVAIL A FAIRE :

(2,00 pts)

1. Relevez deux actions de politique budgétaire et précisez leurs objectifs :

(0,50 pt)

	Une action	Un objectif correspondant
Action par les recettes	Réduction progressive du déficit budgétaire à 3,5% du produit intérieur brut en 2025.	Freiner la hausse des prix.
	Application des engagements du gouvernement dans le cadre du dialogue social.	Améliorer le pouvoir d'achat des ménages.
	Réduction du taux marginal du barème de l'IR de 38% à 37%.	Décélérer la croissance économique.
Action par les dépenses	Augmentation des dépenses d'investissement du budget général de 8,8 % en 2025 par rapport à 2024.	Lutter contre l'inflation.
	Révision des autres tranches du barème de l'IR, afin de les élargir et de réduire leur taux d'imposition.	Ralentir la croissance économique.
	Relèvement de la première tranche du barème relative au revenu annuel net exonéré de 30 000 DH à 40 000 DH.	Relancer la croissance économique.

2. Calculez et lisez pour 2025 :

(1,00 pt)

Elément	Formule	Application numérique et résultat	Lecture
Solde ordinaire du budget général	$(RF + RNF) + (DF + DIC)$	$(329,72 + 39,12) - (320,97 + 45,1) = 2,77 \text{ MMDH}$	Au Maroc, l'épargne nationale prévue par la LF 2025 atteindrait 92,97 MMDH.
	$(RF + RNF) - (DF - DIC)$	$(329,72 + 39,12) + (320,97 + 45,1) = 734,91 \text{ MMDH}$	Au Maroc, l'épargne publique prévue par la LF 2025 atteindrait 2,77 MMDH.
	$(RF + RNF) - (DF + DIC)$	$(329,72 + 39,12) - (320,97 - 45,1) = 92,97 \text{ MMDH}$	Au Maroc, l'excédent budgétaire prévu par la LF 2025 atteindrait 734,91 MMDH.
Besoins bruts de financement du budget de l'État	$BRF - RE$	$125 - 63,51 = 61,49 \text{ MMDH}$	
	$RE - BRF$	$63,51 + 125 = 188,51 \text{ MMDH}$	
	$BRF + RE$	$(- 63,51) - 125 = - 188,51 \text{ MMDH}$	

3. Interprétez la structure des dépenses du budget général en 2025.

(0,50 pt)

La structure des dépenses du budget général en 2025 se caractérise par une prédominance des dépenses d'investissement (25,99%), suivies des dépenses de fonctionnement (64,89%). Les dépenses de la dette occupent le dernier rang avec une part de 9,12%.

La structure des dépenses du budget général en 2025 se caractérise par une prédominance des dépenses de fonctionnement (64,89%), suivies des dépenses de la dette (25,99%). Les dépenses d'investissement occupent le troisième rang avec une part de 9,12%.

La structure des dépenses du budget général en 2025 se caractérise par une prédominance des dépenses de fonctionnement (64,89%), suivies des dépenses d'investissement (25,99%). Les dépenses de la dette occupent le dernier rang avec une part de 9,12%.

Partie réservée au correcteur

Note totale par page :

لا يكتب أي شيء في هذا الإطار

الصفحة 15 على 22

SH - RS - 52

الامتحان الوطني الموحد للبكالوريا - الدورة الاستدراكية 2025 - الموضوع
مادة: الاقتصاد العام والإحصاء - شعبة علوم الاقتصاد والتدبير مسلك العلوم الاقتصادية



DOCUMENT 10 : Afrique, contraintes de développement

Un PIB par habitant faible, un niveau de santé bas et des carences en éducation sont autant de freins au développement des pays de l'Afrique. Cependant, cette situation est très contrastée d'un pays à l'autre. Aux insuffisances de développement, s'ajoute une situation politique instable. L'Afrique est un continent en marge des principaux échanges internationaux qui restent inégaux. La forte croissance démographique non maîtrisée constitue un obstacle principal au développement. Le continent est peuplé d'environ un milliard d'habitants, mais ce chiffre devrait doubler d'ici 2050 et l'augmentation de la population devrait se poursuivre au moins jusqu'au début du siècle prochain.

La pauvreté, un endettement important, un commerce spécialisé dans les produits agricoles ou dans les produits à faible valeur ajoutée, des infrastructures insuffisantes, ... caractérisent les économies africaines.

Le développement des villes représente une autre manifestation du modeste décollage provoquant un retard de développement de l'Afrique. Outre les infrastructures et les équipements qui sont mis en place dans les grandes villes, le niveau de vie des citoyens est supérieur à celui des ruraux et une classe de consommateurs est en train d'émerger.

Source : www.lyceedadultes.fr (Texte adapté)

TRAVAIL A FAIRE :

(1,25 pt)

1. relevez :

(0,50 pt)

Trois indicateurs économiques du sous-développement	Niveau de vie des citoyens supérieur à celui des ruraux.	
	PIB par habitant faible.	
	Pauvreté.	
	Produits à faible valeur ajoutée.	
	Niveau de santé bas.	
	Carences en éducation.	
	Echanges internationaux inégaux.	
Deux indicateurs non économiques du sous-développement	Niveau de santé bas.	
	Endettement important.	
	Carences en éducation.	
	PIB par habitant faible.	
	Commerce spécialisé dans les produits agricoles.	
Une étape de croissance selon W. W. ROSTOW	Le décollage.	
	La pauvreté.	
	Les échanges internationaux.	

2. Complétez le tableau en mettant une croix (x) dans la case appropriée ;

(0,25 pt)

Théorie explicative du sous-développement	Explication par des facteurs internes	Explication par des facteurs externes
Approche des facteurs de blocage de la croissance		
Théorie des cercles vicieux de la pauvreté		
Théorie de l'échange inégal		
Théorie des rapports centre/périphérie		
Thèse du retard		

Partie réservée au correcteur

Note totale par page :

لا يكتب أي شيء في هذا الإطار

الصفحة 16 على 22

SH - RS - 52

الامتحان الوطني الموحد للبكالوريا - الدورة الاستدراكية 2025 - الموضوع
مادة: الاقتصاد العام والإحصاء - شعبة علوم الاقتصاد والتدبير مسلك العلوم الاقتصادية

Ω

3. Dégagez :

(0,50 pt)

Deux théories explicatives du sous-développement	Justification	Auteur de la théorie
Echange inégal	Pauvreté en Afrique	R. NURKSE
Désarticulation	Forte croissance démographique	
Cercles vicieux de la pauvreté	Echanges internationaux inégaux	
Echange inégal	Pauvreté en Afrique	A. EMMANUEL
Dualisme	Economie désintégrée	
Retard du développement	Echanges internationaux inégaux	

DOCUMENT 11 : Maroc, investissements directs étrangers (IDE) en hausse à fin août 2024

Impactés par la guerre en Ukraine, les prix élevés des denrées alimentaires et de l'énergie, ainsi que les pressions liées à la dette, les IDE ont chuté de 36% à l'échelle mondiale au deuxième trimestre 2024.

Cependant, le flux net des IDE au Maroc a atteint **15,21** milliards de dirhams (MMDH) à fin août 2024, marquant une hausse significative de 55,1% par rapport à la même période en 2023. Cette progression témoigne de la solidité et de l'attractivité croissante de l'économie marocaine pour les investisseurs internationaux.

Les recettes des IDE ont enregistré une nette augmentation de 13,9% atteignant 25,35 MMDH à la fin du mois d'août 2024. Cette hausse est due principalement à la confiance accrue des investisseurs dans le marché marocain, qui bénéficie d'une stabilité politique et d'un cadre législatif favorable aux affaires. Parallèlement, les dépenses liées à ces investissements ont diminué de 18,6% s'établissant à 10,14 MMDH. Ceci a contribué à renforcer le flux net des IDE.

Sources : www.lematin.ma au 06/07/2023 et www.industrie.ma (Texte adapté)

TRAVAIL A FAIRE :

(1,50 pt)

1. Relevez deux facteurs explicatifs de la diminution des IDE à l'échelle mondiale au 2^{ème} trimestre 2024 ; (0,25 pt)

Les IDE ont chuté de 36% à l'échelle mondiale au deuxième trimestre 2024.	
Les dépenses liées à ces investissements ont diminué de 18,6% s'établissant à 10,14 MMDH.	
La guerre en Ukraine.	
Les prix élevés des denrées alimentaires et de l'énergie.	
La solidité et de l'attractivité croissante de l'économie marocaine pour les investisseurs internationaux.	
Le flux net des IDE au Maroc a atteint 15,21 milliards de dirhams (MMDH) à fin août 2024.	

2. Identifiez le compte de la balance des paiements dans lequel figurent les recettes des IDE ; (0,25 pt)

Compte des transactions courantes.	
Compte financier.	
Compte monétaire.	
Compte de capital.	

Partie réservée au correcteur

Note totale par page :

لا يكتب أي شيء في هذا الإطار

الصفحة 17 على 22

SH - RS - 52

الامتحان الوطني الموحد للبكالوريا - الدورة الاستدراكية 2025 - الموضوع
مادة: الاقتصاد العام والإحصاء - شعبة علوم الاقتصاد والتدبير مسلك العلوم الاقتصادية



3. Précisez deux effets éventuels des IDE sur les pays d'accueil ;

(0,25 pt)

un effet positif sur la croissance économique	Stimulation de la croissance économique.	
	Stagnation de la croissance économique.	
	Stabilisation de la croissance économique.	
un effet négatif sur le développement durable	Aggravation du chômage à long terme.	
	Détérioration du solde commercial.	
	Dégradation des ressources naturelles pour les générations futures.	

4. Retrouvez la donnée en gras soulignée ;

(0,25 pt)

Formule	Application numérique	Résultat

5. Expliquez l'amélioration des recettes des IDE pour le Maroc.

(0,50 pt)

La compétitivité croissante du Royaume, sur le plan international, fait du pays une destination prisée pour les investisseurs étrangers. Ces investisseurs ont une confiance accrue au Maroc qui bénéficie d'une stabilité politique et d'un cadre législatif favorable aux affaires, ce qui explique la hausse des recettes des IDE pour le Maroc.	
La compétitivité croissante du Royaume, sur le plan international, fait du pays une destination prisée pour les investisseurs nationaux. Ces investisseurs ont une confiance accrue au Maroc qui bénéficie d'une stabilité politique et d'un cadre législatif favorable aux affaires, ce qui explique la hausse des recettes des IDE pour le Maroc.	
La compétitivité croissante du Royaume, sur le plan international, fait du pays une destination prisée pour les investisseurs étrangers. Ces investisseurs ont une confiance accrue au Maroc qui bénéficie d'une stabilité politique et d'un cadre législatif favorable aux affaires, ce qui explique la hausse des recettes des IDE au niveau mondial.	

Partie réservée au correcteur

Note totale par page :

لا يكتب أي شيء في هذا الإطار

الصفحة 18 على 22

SH - RS - 52

الامتحان الوطني الموحد للبكالوريا - الدورة الاستدراكية 2025 - الموضوع
مادة: الاقتصاد العام والإحصاء - شعبة علوم الاقتصاد والتدبير مسلك العلوم الاقتصادية



DOSSIER 3 : Maroc, échanges extérieurs

DOCUMENT 12 : Maroc, libéralisation des échanges extérieurs

Le Maroc est l'un des pays précurseurs en Afrique et dans le monde arabe à avoir opté pour la libéralisation de son économie et de ses échanges. Cette politique s'est renforcée par l'adoption d'une nouvelle génération de réformes qui a porté principalement sur la limitation des mesures non tarifaires tant à l'importation qu'à l'exportation, la simplification du système de taxation des importations et la rationalisation du tarif douanier.

La politique d'ouverture et de libéralisation entreprise par le Maroc s'est traduite également par la conclusion d'une série d'accords de libre-échange avec ses principaux partenaires commerciaux tels que l'Union Européenne, certains pays arabes, les Etats-Unis d'Amérique et la Turquie. Ces accords émergent comme principal outil de la politique d'ouverture visant à renforcer l'intégration du pays à l'économie mondiale et à son environnement régional.

Cette politique commerciale ouverte dynamise les exportations stimulant ainsi les recettes en devises et favorise les transferts des technologies et du savoir-faire internationaux. Ces transferts constituent la pierre angulaire de l'investissement étranger. Aussi permet-elle le développement des exportations par une mise en œuvre plus avancée des actions visant le développement et la valorisation des exportations.

Sources : www.cnea.ma et www.oecd.org (Texte adapté)

DOCUMENT 13 : Maroc, inventaire des pertes et des profits de l'ouverture à l'international

Pour le Maroc, le commerce avec l'étranger se porte bien en dépit du contexte mondial difficile. Preuve en est la tendance haussière de l'export. Les exportations marocaines ont atteint 331 milliards de dirhams (MMDH) jusqu'à fin septembre 2024. Cet essor est dû à la hausse de la demande sur les produits marocains dans les marchés internationaux. En réalité, l'export reste soutenu principalement par le potentiel grandissant de l'aéronautique et les performances remarquables de l'automobile. Ce secteur demeure la locomotive du "made in Morocco".

En gros, le taux de couverture des marchandises est passé de 57,8% entre janvier et septembre 2019 à environ 60% au cours de la même période en 2024. Le déficit commercial continue, tout de même, de peser sur le produit intérieur brut du Maroc qui en perd 9,8%.

La question du déficit de la balance commerciale renvoie souvent au débat éternel sur les accords de libre-échange (ALE) que le Maroc a signés avec plusieurs pays. Le Royaume est déficitaire avec quasiment l'ensemble des pays avec lesquels il a signé des ALE. Les difficultés rencontrées par certains partenaires qui se sont livrés à des actes de dumping ont poussé le Maroc à durcir le ton et à revoir sa stratégie en vue de faire face à la dégradation des termes de l'échange, comme ce qui s'est passé avec la Turquie et l'Egypte. Notons, par ailleurs, que le Maroc a des accords avec près de 100 pays, ce qui donne accès à un marché de 2,3 milliards de consommateurs.

Source : www.lopinion.ma au 05/11/2024 (Texte adapté)

TRAVAIL A FAIRE :

(3,00 pts)

Question de synthèse : Exploitez les documents du dossier n°3 et vos connaissances acquises :

Dans un contexte de libéralisation accrue de l'économie, le développement du commerce extérieur est au centre de la stratégie d'ouverture du Royaume.

Après avoir **identifié** les mesures entreprises dans le cadre de la politique d'ouverture de l'économie marocaine (**trois mesures**), **précisez** les effets de cette ouverture sur le développement du commerce extérieur du pays (**deux effets positifs et deux effets négatifs**).

N.B :

- Évitez l'utilisation des tirets et rédigez votre réponse sous forme de paragraphes structurés (utilisez les connecteurs logiques avec des transitions) ;
- Votre travail doit respecter la forme usuelle d'une synthèse argumentée (Introduction, développement et conclusion).

Partie réservée au correcteur

Note totale par page :

لا يكتب أي شيء
في هذا الإطار



الصفحة 20 على 22

SH - RS - 52

الامتحان الوطني الموحد للبكالوريا - الدورة الاستدراكية 2025 - الموضوع
مادة: الاقتصاد العام والإحصاء - شعبة علوم الاقتصاد والتدبير مسلك العلوم الاقتصادية

Ω

Partie réservée au correcteur

Note totale par page :

لا يكتب أي شيء
في هذا الإطار



الصفحة 21 على 22

SH - RS - 52

الامتحان الوطني الموحد للبكالوريا - الدورة الاستدراكية 2025 - الموضوع
مادة: الاقتصاد العام والإحصاء - شعبة علوم الاقتصاد والتدبير مسلك العلوم الاقتصادية

Ω

Partie réservée au correcteur

Note totale par page :

لا يكتب أي شيء في هذا الإطار



الصفحة 22 على 22

SH - RS - 52

الامتحان الوطني الموحد للبكالوريا - الدورة الاستدراكية 2025 - الموضوع
مادة: الاقتصاد العام والإحصاء - شعبة علوم الاقتصاد والتدبير مسلك العلوم الاقتصادية

Ω

Ce cadre est strictement réservé au correcteur

Note de la présentation de la copie sur 3

.....

Note finale sur 120

.....

Note finale sur 20

.....

Partie réservée au correcteur

Note totale par page :